







Mission 1



Décode le parcours de Blue-bot. Qui a-t-elle accompagné ? Où s'est-elle rendue ?



Trace le parcours sur le quadrillage ci-dessous et **complète le cadre** réponse.

	A	B	C	D	E
1	 		Erbol		
2	Francklyn		Malaingadra		KIRGHIZIE
3		PEROU			 
4				William	
5	MADAGASCAR		 		Olivier






Mission 2























Cherche l'erreur d'instruction commise dans le programme ci-dessous et corrige-là (entoure l'instruction erronée).














Trace le parcours sur le quadrillage ci-dessous

	A	B	C	D	E
1	 		Erbol		
2	Francklyn				KIRGHIZIE
3		PEROU			 
4				William	
5	MADAGASCAR		 		Olivier









Erbol













William














Francklyn

Mission 3


Cherche quelle est la Blue-bot qui mettra le moins de temps pour rejoindre Erbol, passer par la casse nombre de kilomètres parcourus et rejoindre le pays ?


Trace le parcours sur le quadrillage ci-dessous et complète le cadre réponse.

	A	B	C	D	E	
1	 		Erbol			
2	Francklyn		20 kms		KIRGHIZIE	
3		PEROU			 	
4			 	William		
5	MADAGASCAR	13 kms			Olivier	
		<input type="text"/>		<input type="text"/>		<input type="text"/>